



Prénom & Nom :

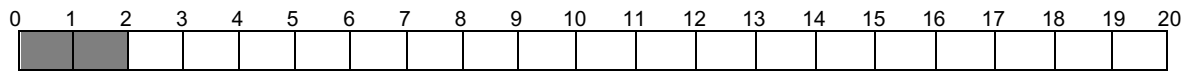
Date :

ie m'entraîne T1


La table par 2

① COLORIE les cases pour obtenir le résultat.

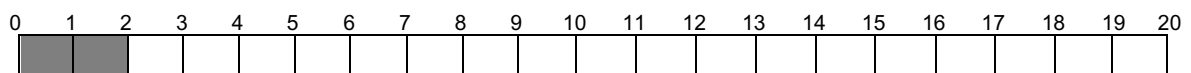
$2 \times 3 = \underline{\quad}$



$2 \times 5 = \underline{\quad}$



$2 \times 8 = \underline{\quad}$

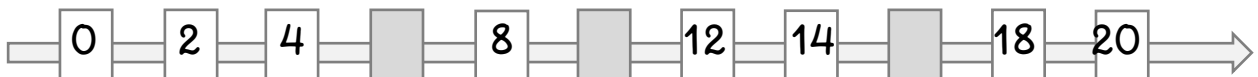


② CALCULE.

$0 \times 2 = \underline{\quad} \quad 1 \times 2 = \underline{\quad} \quad 2 \times 2 = \underline{\quad} \quad 3 \times 2 = \underline{\quad} \quad 4 \times 2 = \underline{\quad} \quad 5 \times 2 = \underline{\quad}$

$6 \times 2 = \underline{\quad} \quad 7 \times 2 = \underline{\quad} \quad 8 \times 2 = \underline{\quad} \quad 9 \times 2 = \underline{\quad} \quad 10 \times 2 = \underline{\quad}$

③ COMPLETE les cases grisées.



④ ECRIS la réponse.

Au zoo, il y a 8 autruches.

Combien y-a-t-il de pattes en tout ?

Il y a _____ pattes.



Nous avons 4 nouveaux petits poussins.

Combien y-a-t-il de pattes en tout ?

Il y a _____ pattes.

J'ai 5 pièces de 2€ dans ma tirelire.

Cela fait _____ €

